



OECD Programme for International Student Assessment

Deutschland

PISA 2000

Beispielaufgaben aus dem Lesekompetenztest

ORGANISATION FOR ECONOMIC CO-OPERATION AND DEVELOPMENT



INHALT

UNIT „TSCHADSEE“	1
Frage 1: TSCHADSEE	3
Frage 2: TSCHADSEE	3
Frage 3: TSCHADSEE	3
Frage 4: TSCHADSEE	3
Frage 5: TSCHADSEE	3
UNIT „GRIPPE“	4
Frage 6: GRIPPE.....	7
Frage 7: GRIPPE.....	7
Frage 8: GRIPPE.....	8
Frage 9: GRIPPE.....	8
Frage 10: GRIPPE.....	9
UNIT „GRAFFITI“	10
Frage 11: GRAFFITI	12
Frage 12: GRAFFITI	12
Frage 13: GRAFFITI	12
Frage 14: GRAFFITI	13
Frage 15: GRAFFITI	13
UNIT „ERWERBSTÄTIGE BEVÖLKERUNG“	14
Frage 16: ERWERBSTÄTIGE BEVÖLKERUNG	16
Frage 17: ERWERBSTÄTIGE BEVÖLKERUNG	16
Frage 18: ERWERBSTÄTIGE BEVÖLKERUNG	17
Frage 19: ERWERBSTÄTIGE BEVÖLKERUNG	18
Frage 20: ERWERBSTÄTIGE BEVÖLKERUNG	18
UNIT „PLAN INTERNATIONAL“	19
Frage 21: PLAN INTERNATIONAL	21
Frage 22: PLAN INTERNATIONAL	21
UNIT „POLIZEI“	22
Frage 23: POLIZEI	24
Frage 24: POLIZEI	24
Frage 25: POLIZEI	24
Frage 26: POLIZEI	24
UNIT „TURNSCHUHE“	25
Frage 27: TURNSCHUHE	27
Frage 28: TURNSCHUHE	27
Frage 29: TURNSCHUHE	27
Frage 30: TURNSCHUHE	28
UNIT „GESCHENK“	29
Frage 31: GESCHENK	33
Frage 32: GESCHENK	34
Frage 33: GESCHENK	34
Frage 34: GESCHENK	34
Frage 35: GESCHENK	35
Frage 36: GESCHENK	35
Frage 37: GESCHENK	35

UNIT „AMANDA UND DIE HERZOGIN“.....	36
Frage 38: AMANDA UND DIE HERZOGIN.....	39
Frage 39: AMANDA UND DIE HERZOGIN.....	39
Frage 40: AMANDA UND DIE HERZOGIN.....	39
Frage 41: AMANDA UND DIE HERZOGIN.....	40
Frage 42: AMANDA UND DIE HERZOGIN.....	40
UNIT „PERSONAL“.....	41
Frage 43: PERSONAL.....	43
Frage 44: PERSONAL.....	43
UNIT „TECHNOLOGIE“.....	44
Frage 45: TECHNOLOGIE.....	46
Frage 46: TECHNOLOGIE.....	46

UNIT „TSCHADSEE“

TSCHADSEE

Abbildung 1 zeigt die Schwankungen des Wasserstandes des Tschadsees in der Sahara in Nordafrika. Während der letzten Eiszeit, etwa 20 000 v. Chr., verschwand der Tschadsee vollständig. Um etwa 11 000 v. Chr. entstand er wieder neu. Heute hat er etwa den gleichen Wasserstand wie im Jahre 1 000 n. Chr.

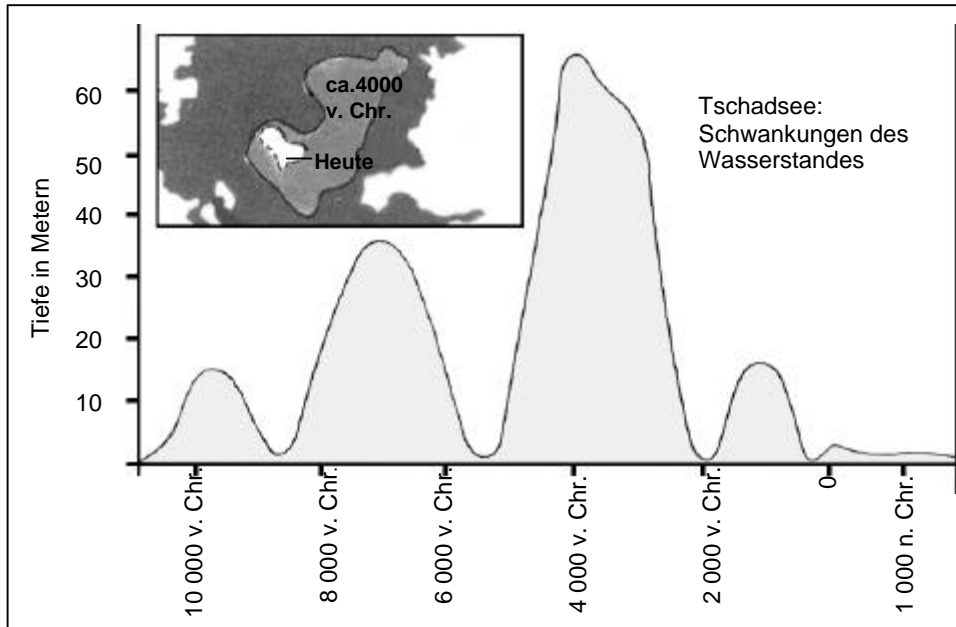


Abbildung 1

Abbildung 2 zeigt Felsmalereien (alte Zeichnungen oder Malereien, die an den Wänden von Höhlen gefunden wurden) aus der Sahara und Veränderungen in der Struktur der Tierwelt.

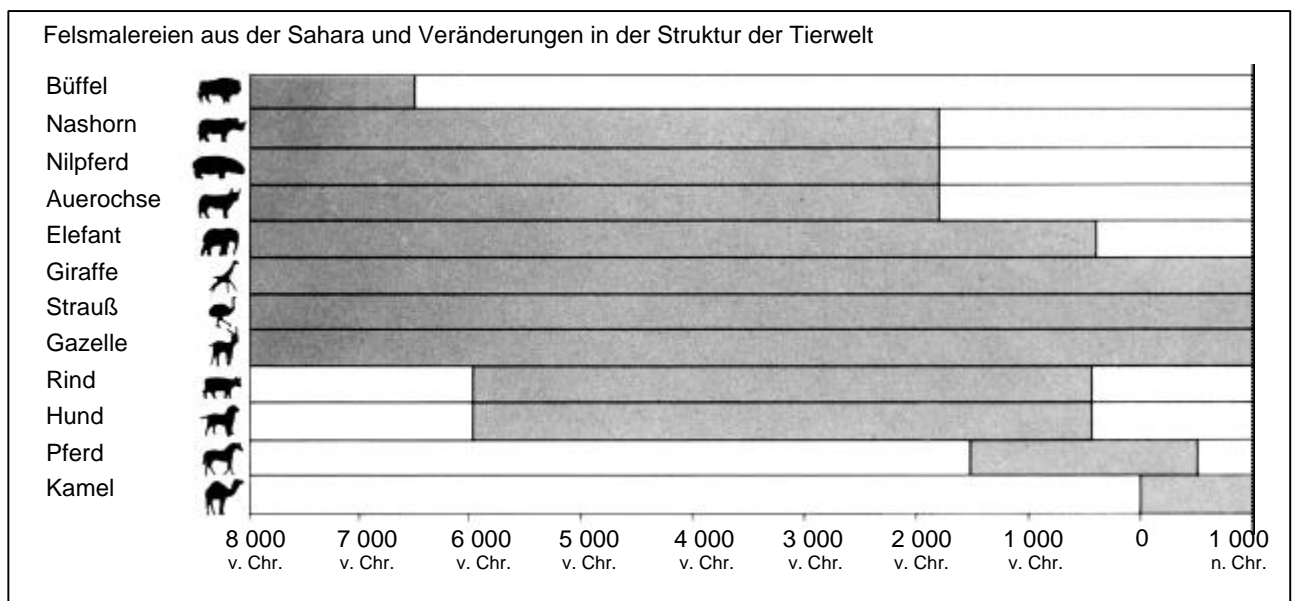


Abbildung 2

Nutze die Informationen über den Tschadsee auf der gegenüberliegenden Seite, um die unten stehenden Fragen zu beantworten.

Frage 1: TSCHADSEE

Wie tief ist der Tschadsee heute?

- A Etwa zwei Meter.
 - B Etwa fünfzehn Meter.
 - C Etwa fünfzig Meter.
 - D Er ist vollständig verschwunden.
 - E Diese Information wird nicht gegeben.
-

Frage 2: TSCHADSEE

Mit ungefähr welchem Jahr beginnt das Diagramm in Abbildung 1?

.....

Frage 3: TSCHADSEE

Warum hat der Autor sich entschieden, das Diagramm an dieser Stelle beginnen zu lassen?

.....
.....

Frage 4: TSCHADSEE

Abbildung 2 geht von der Annahme aus, dass

- A die Tiere in den Felsmalereien zu dem Zeitpunkt, als die Malereien entstanden, in diesem Gebiet vorkamen.
 - B die Künstler, die die Tiere malten, hoch begabt waren.
 - C die Künstler, die die Tiere malten, weite Strecken zurücklegen konnten.
 - D es keinen Versuch gab, die Tiere zu zähmen, die in der Felsmalerei abgebildet wurden.
-

Frage 5: TSCHADSEE

Für diese Frage musst du Informationen aus Abbildung 1 und Abbildung 2 verbinden.

Das Verschwinden von Nashorn, Nilpferd und Auerochse aus den Felsmalereien in der Sahara geschah


- A zu Beginn der letzten Eiszeit.
- B in der Mitte des Zeitraums, als der Tschadsee seinen höchsten Wasserstand hatte.
- C nachdem der Wasserstand des Tschadsees über tausend Jahre lang gefallen war.
- D zu Beginn einer ununterbrochenen Trockenzeit.

UNIT „GRIPPE“

PROGRAMM ZUR FREIWILLIGEN GRIPPESCHUTZIMPfung BEI ACOL

Wie Sie sicherlich wissen, kann die Grippe im Winter schnell und weiträumig um sich greifen. Ihre Opfer liegen dann oft wochenlang krank im Bett.


Der beste Weg, das Virus zu bekämpfen, ist ein fitter und gesunder Körper. Tägliche Bewegung und eine Ernährung mit viel Obst und Gemüse sind sehr zu empfehlen, um das Immunsystem in seinem Kampf gegen diesen Krankheitserreger zu unterstützen.



Die Firma ACOL hat beschlossen, ihren Mitarbeitern die Gelegenheit zur Gripeschutzimpfung als einen zusätzlichen Weg anzubieten, um dieses tückische Virus an der Ausbreitung unter uns zu hindern. ACOL hat eine Krankenschwester engagiert, die in der Woche ab dem 17. November einen halben Tag lang während der Arbeitszeit die Impfungen in den Räumen der Firma ACOL vornimmt. Dieses Programm ist kostenlos und steht allen Mitarbeitern zur Verfügung.

Die Teilnahme ist freiwillig. Mitarbeiter, die diese Möglichkeit nutzen möchten, werden aufgefordert, eine Einverständniserklärung zu unterzeichnen, in der sie angeben, dass sie keine Allergien haben und dass ihnen bekannt ist, dass die Impfung geringfügige Nebenwirkungen haben kann.

Nach medizinischen Erkenntnissen verursacht die Impfung keine Grippeinfektion. Manchmal kommt es jedoch zu einigen Nebenwirkungen wie Müdigkeit, leichtem Fieber und Schmerzen im Arm.



WER SOLLTE SICH IMPFEN LASSEN?

Jeder, der sich vor dem Virus schützen möchte.

Diese Impfung wird besonders Menschen über 65 Jahren empfohlen. Unabhängig vom Alter ist sie jedoch für JEDEN gut, der an einer chronischen schwächenden Krankheit leidet, insbesondere Herz-, Lungen-, Bronchialerkrankungen oder Diabetes.

In einem Bürobetrieb sind ALLE Mitarbeiter dem Risiko ausgesetzt, die Grippe zu bekommen.

WER SOLLTE SICH NICHT IMPFEN LASSEN?

Personen mit einer Überempfindlichkeit gegen Eier; Menschen, die an einer akuten fieberhaften Erkrankung leiden; und Schwangere.

Fragen Sie Ihren Arzt, wenn Sie regelmäßig irgendwelche Medikamente einnehmen oder bei einer früheren Gripeschutzimpfung Nebenwirkungen aufgetreten sind.



Wenn Sie sich in der Woche ab dem 17. November impfen lassen wollen, teilen Sie dies bitte der Personalchefin Renate Petersen bis Freitag, den 7. November, mit. Datum und Uhrzeit richten sich nach der Verfügbarkeit der Krankenschwester, der Anzahl der Teilnehmer und der für die meisten Mitarbeiter günstigsten Zeit. Wenn Sie sich gern für diesen Winter impfen lassen würden, jedoch zu dem festgelegten Zeitpunkt nicht kommen können, teilen Sie dies bitte Frau Petersen mit. Falls genügend Teilnehmer zusammenkommen, kann auch ein weiterer Termin vereinbart werden.

Für weitere Auskünfte wenden Sie sich bitte unter Durchwahl 5577 an Frau Petersen.

Bleiben Sie
gesund

Renate Petersen, Personalchefin bei ACOL, hat das auf den vorherigen beiden Seiten abgedruckte Informationsblatt für die Mitarbeiter von ACOL herausgegeben. Beziehe dich zur Beantwortung der unten stehenden Fragen auf das Informationsblatt.

Frage 6: GRIPPE

Welche der folgenden Maßnahmen ist Bestandteil des Programms zur Gripeschutzimpfung bei ACOL?

- A Im Winter werden täglich gemeinsame Sportübungen angeboten.
- B Während der Arbeitszeit werden Impfungen vorgenommen.
- C Die Teilnehmer erhalten eine kleine Prämie.
- D Die Spritzen werden von einem Arzt gegeben.

Frage 7: GRIPPE

Wir können über den **Inhalt** eines Texts sprechen (was darin steht).

Wir können über seinen **Stil** sprechen (wie es dargestellt wird).

Frau Petersen wollte, dass der **Stil** dieses Informationsblatts freundlich und einladend ist.

Findest du, dass ihr dies gelungen ist?

Belege deine Antwort, indem du dich auf einzelne Merkmale des Layouts, des Schreibstils, der Bilder oder der sonstigen graphischen Elemente beziehst.

.....

.....

.....

Frage 8: GRIPPE

Im Informationsblatt heißt es, wenn man sich gegen das Grippevirus schützen wolle, sei eine Gripeschutzimpfung

- A wirksamer als Bewegung und gesunde Ernährung, aber riskanter.
- B eine gute Sache, aber kein Ersatz für Bewegung und gesunde Ernährung.
- C genauso wirksam wie Bewegung und gesunde Ernährung und weniger anstrengend.
- D nicht nötig, wenn man sich viel bewegt und gesund ernährt.

Frage 9: GRIPPE

In einem Teil des Informationsblattes heißt es:

WER SOLLTE SICH IMPFEN LASSEN?

Jeder, der sich vor dem Virus schützen möchte.

Nachdem Frau Petersen das Informationsblatt in Umlauf gebracht hatte, sagte ihr ein Kollege, sie hätte den Satz „Jeder, der sich vor dem Virus schützen möchte.“ weglassen sollen, weil er irreführend sei.

Bist du auch der Meinung, dass dieser Satz irreführend ist und hätte weggelassen werden sollen?

Begründe deine Antwort.

.....

.....

.....

.....

Frage 10: GRIPPE

Welcher der folgenden Mitarbeiter sollte sich laut Informationsblatt mit Frau Petersen in Verbindung setzen?

- A Herr Siegert aus dem Lager, der nicht geimpft werden möchte, weil er sich lieber auf seine natürlichen Abwehrkräfte verlassen will.
- B Frau Fischer aus dem Vertrieb, die wissen möchte, ob die Gripeschutzimpfung Pflicht ist.
- C Frau Albert aus der Versandabteilung, die sich in diesem Winter gern impfen lassen würde, aber in zwei Monaten ein Baby bekommt.
- D Herr Michaelis aus der Rechnungsabteilung, der sich gern impfen lassen würde, aber in der Woche ab dem 17. November im Urlaub ist.

UNIT "GRAFFITI"

GRAFFITI

Ich koche vor Wut, die Schulwand wird nämlich gerade zum vierten Mal gereinigt und frisch gestrichen, um Graffiti wegzubekommen. Kreativität ist bewundernswert, aber die Leute sollten Ausdrucksformen finden, die der Gesellschaft keine zusätzlichen Kosten aufbürden.

Warum schädigt ihr den Ruf junger Leute, indem ihr Graffiti malt, wo es verboten ist? Professionelle Künstler hängen ihre Bilder doch auch nicht in den Straßen auf, oder? Stattdessen suchen sie sich Geldgeber und kommen durch legale Ausstellungen zu Ruhm.

Meiner Meinung nach sind Gebäude, Zäune und Parkbänke an sich schon Kunstwerke. Es ist wirklich armselig, diese Architektur mit Graffiti zu verschandeln, und außerdem zerstört die Methode die Ozonschicht. Wirklich, ich kann nicht begreifen, warum diese kriminellen Künstler sich so viel Mühe machen, wo ihre „Kunstwerke“ doch bloß immer wieder beseitigt werden und keiner sie mehr sieht.

Helga

Über Geschmack lässt sich streiten. Die Gesellschaft ist voll von Kommunikation und Werbung. Firmenlogos, Ladennamen. Große, aufdringliche Plakate in den Straßen. Sind sie akzeptabel? Ja, meistens. Sind Graffiti akzeptabel? Manche Leute sagen ja, manche nein.

Wer zahlt den Preis für die Graffiti? Wer zahlt letzten Endes den Preis für die Werbung? Richtig! Der Verbraucher.

Haben die Leute, die Reklametafeln aufstellen, dich um Erlaubnis gebeten? Nein. Sollten also die Graffiti-Maler dies tun? Ist das nicht alles nur eine Frage der Kommunikation – der eigene Name, die Namen von Banden und die großen Kunstwerke auf offener Straße?

Denk mal an die gestreiften und karierten Kleider, die vor ein paar Jahren in den Läden auftauchten. Und an die Skibekleidung. Die Muster und die Farben waren direkt von den bunten Betonwänden geklaut. Es ist schon komisch, dass die Leute diese Muster und Farben akzeptieren und bewundern, während sie Graffiti in demselben Stil scheußlich finden.

Harte Zeiten für die Kunst.

Sophia

Die beiden Briefe auf der gegenüberliegenden Seite kommen aus dem Internet, und es geht in ihnen um Graffiti. Graffiti sind verbotene Malereien und Schrift an Wänden und anderswo. Beziehe dich auf die Briefe, um die anschließenden Fragen zu beantworten.

Frage 11: GRAFFITI

Die Absicht der beiden Briefe ist,

- A zu erklären, was Graffiti sind.
 - B Meinungen zu Graffiti zu äußern.
 - C die Popularität von Graffiti zu beweisen.
 - D den Leuten mitzuteilen, wie viel ausgegeben wird, um Graffiti zu entfernen.
-

Frage 12: GRAFFITI

Helga spricht von den Kosten, die Graffiti der Gesellschaft verursachen. Dazu gehören unter anderem die Kosten für die Entfernung von Graffiti von öffentlichen Gebäuden.

Von welchen Kosten spricht Helga sonst noch?

.....

Frage 13: GRAFFITI

Warum verweist Sophia auf die Werbung?

.....

.....

Frage 14: GRAFFITI

Welchem der beiden Briefe stimmst du zu? Begründe deine Antwort, indem du **mit deinen eigenen Worten** wiedergibst, was in einem oder in beiden Briefen steht.

.....

.....

.....

Frage 15: GRAFFITI

Man kann darüber sprechen, **was** in einem Brief steht (seinen Inhalt).

Man kann über **die Art und Weise** sprechen, wie ein Brief geschrieben ist (seinen Stil).

Unabhängig davon, welchem Brief du zustimmst: Welcher Brief ist deiner Meinung nach besser? Erkläre deine Antwort, indem du dich auf **die Art und Weise** beziehst, wie einer oder beide Briefe geschrieben sind.

.....

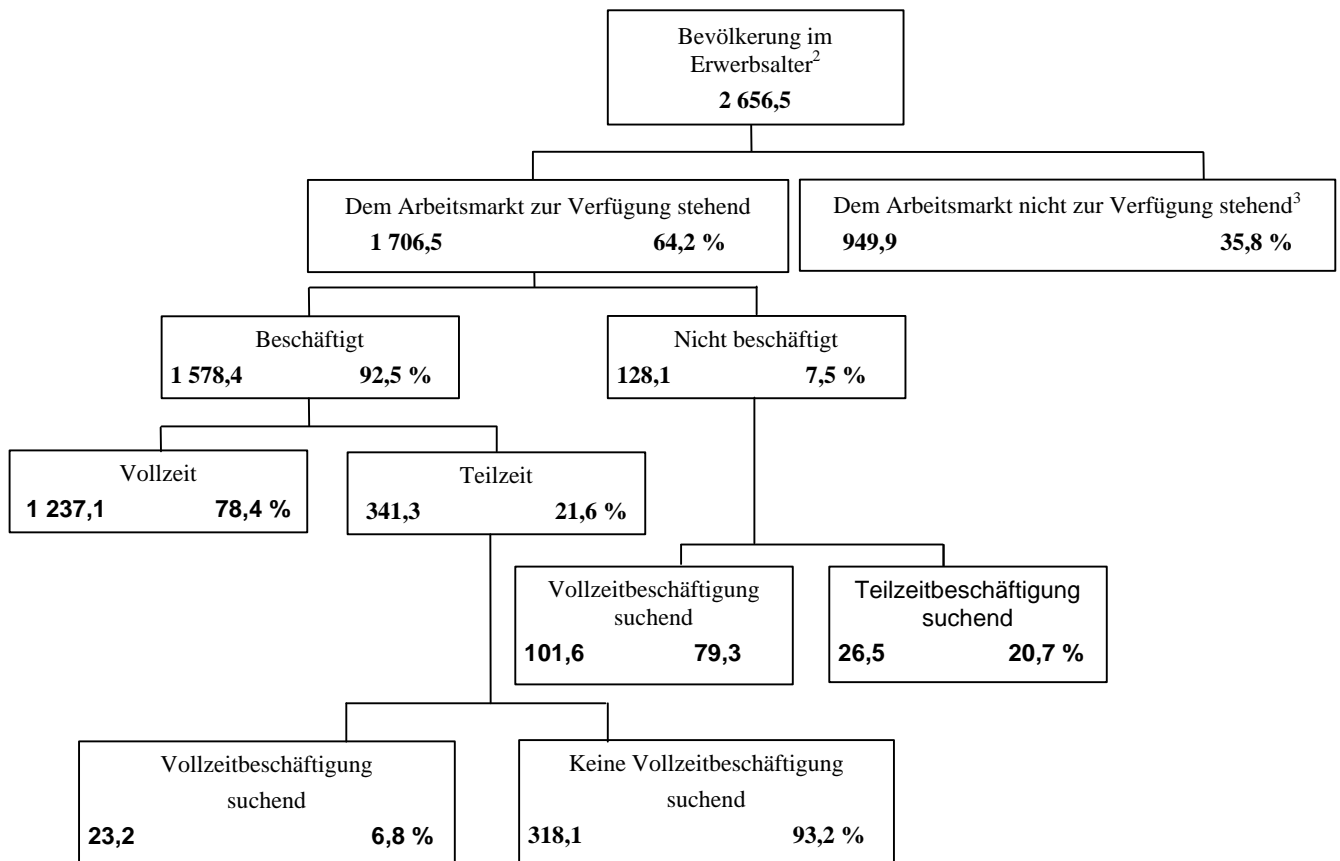
.....

.....

UNIT „ERWERBSTÄTIGE BEVÖLKERUNG“

Das folgende Baumdiagramm zeigt die Struktur der erwerbstätigen Bevölkerung bzw. der „Bevölkerung im Erwerbsalter“ eines Landes. Die Gesamtbevölkerung des Landes betrug 1995 etwa 3,4 Millionen.

Die Struktur der erwerbstätigen Bevölkerung, Stand: 31. März 1995 (in Tsd.)¹



Anmerkungen

1. Anzahl der Personen in Tausend (Tsd.).
2. Die Bevölkerung im Erwerbsalter ist definiert als Menschen zwischen 15 und 65 Jahren.
3. „Dem Arbeitsmarkt nicht zur Verfügung stehend“ bezieht sich auf Personen, die nicht aktiv Arbeit suchen und/oder für Arbeit nicht zur Verfügung stehen.

Benutze die Informationen über die erwerbstätige Bevölkerung eines Landes auf der gegenüberliegenden Seite, um die unten stehenden Fragen zu beantworten.

Frage 16: ERWERBSTÄTIGE BEVÖLKERUNG

In welche beiden Hauptgruppen wird die Bevölkerung im Erwerbsalter unterteilt?

- A Beschäftigte und Nichtbeschäftigte.
- B Im Erwerbsalter und nicht im Erwerbsalter.
- C Vollzeitbeschäftigte und Teilzeitbeschäftigte.
- D Dem Arbeitsmarkt zur Verfügung stehend und dem Arbeitsmarkt nicht zur Verfügung stehend.

Frage 17: ERWERBSTÄTIGE BEVÖLKERUNG

Wie viele Personen im Erwerbsalter standen dem Arbeitsmarkt nicht zur Verfügung?
(Gib die **Zahl** der Personen an, nicht den Prozentsatz.)

.....

Frage 18: ERWERBSTÄTIGE BEVÖLKERUNG

In welchem Teil des Baumdiagramms wären die in der unten stehenden Tabelle aufgelisteten Personen, wenn überhaupt, enthalten?

Antworte, indem du jeweils das zutreffende Kästchen in der Tabelle ankreuzt.

Das erste Kreuz wurde bereits für dich gemacht.

	„Dem Arbeitsmarkt zur Verfügung stehend: beschäftigt“	„Dem Arbeitsmarkt zur Verfügung stehend: nicht beschäftigt“	„Dem Arbeitsmarkt nicht zur Verfügung stehend“	Unter keine Kategorie fallend
Ein Teilzeitkellner, 35 Jahre	<input checked="" type="checkbox"/>	<input type="checkbox"/>	<input type="checkbox"/>	<input type="checkbox"/>
Eine Geschäftsfrau, 43 Jahre, mit einer 60-Stunden-Woche	<input type="checkbox"/>	<input type="checkbox"/>	<input type="checkbox"/>	<input type="checkbox"/>
Ein Vollzeitstudent, 21 Jahre	<input type="checkbox"/>	<input type="checkbox"/>	<input type="checkbox"/>	<input type="checkbox"/>
Ein Mann, 28 Jahre, der vor kurzem seinen Laden verkauft hat und jetzt Arbeit sucht	<input type="checkbox"/>	<input type="checkbox"/>	<input type="checkbox"/>	<input type="checkbox"/>
Eine Frau, 55 Jahre, die nie berufstätig war oder sein wollte	<input type="checkbox"/>	<input type="checkbox"/>	<input type="checkbox"/>	<input type="checkbox"/>
Eine Großmutter, 80 Jahre, die immer noch jeden Tag ein paar Stunden am Marktstand ihrer Familie arbeitet	<input type="checkbox"/>	<input type="checkbox"/>	<input type="checkbox"/>	<input type="checkbox"/>

Frage 19: ERWERBSTÄTIGE BEVÖLKERUNG

Stelle dir vor, diese Information über die Struktur der erwerbstätigen Bevölkerung würde jedes Jahr in einem Baumdiagramm wie diesem veröffentlicht.

Unten sind vier Bestandteile des Baumdiagramms aufgelistet. Gib an, ob du erwarten würdest, dass diese Bestandteile sich von Jahr zu Jahr ändern oder nicht, indem du „Veränderung“ oder „Keine Veränderung“ einkreist. Der erste Kreis wurde schon für dich gemacht.

Bestandteile des Baumdiagramms	Antwort
Die Beschriftung in jedem Kästchen (z.B. „Dem Arbeitsmarkt zur Verfügung stehend“)	Veränderung / <input checked="" type="radio"/> Keine Veränderung
Die Prozentsätze (z.B. „64,2 %“)	Veränderung / Keine Veränderung
Die Zahlen (z.B. „2 656,5“)	Veränderung / Keine Veränderung
Die Fußnoten unter dem Baumdiagramm	Veränderung / Keine Veränderung

Frage 20: ERWERBSTÄTIGE BEVÖLKERUNG

Die Informationen über die Struktur der erwerbstätigen Bevölkerung werden als Baumdiagramm dargestellt, hätten aber auch auf verschiedene andere Arten dargestellt werden können, etwa als schriftliche Beschreibung, als Tortendiagramm, als Balkendiagramm oder als Tabelle.

Das Baumdiagramm wurde wahrscheinlich gewählt, weil es sich besonders gut eignet für die Darstellung

- A der Veränderungen im Zeitverlauf.
- B der Größe der Gesamtbevölkerung des Landes.
- C der Kategorien innerhalb jeder Gruppe.
- D der Größe jeder Gruppe.

UNIT „PLAN INTERNATIONAL“

Region östliches und südliches Afrika

RÖSA



Gesund aufwachsen

	ÄGYPTEN	ÄTHIOPIEN	KENIA	MALAWI	SUDAN	TANSANIA	UGANDA	SAMBIA	SIMBABWE	GESAMT
Gesundheitsstationen mit 4 oder weniger Räumen gebaut	1	0	6	0	7	1	2	0	9	26
Gesundheitsarbeiter 1 Tag lang geschult	1 053	0	719	0	425	1 003	20	80	1 085	4 385
Kinder, die Zusatznahrung erhielten > 1 Woche	10 195	0	2 240	2 400	0	0	0	0	251 402	266 237
Kinder finanziell für ärztliche/zahnärztliche Behandlung unterstützt	984	0	396	0	305	0	581	0	17	2 283



Lernen

Lehrer 1 Woche lang geschult	0	0	367	0	970	115	565	0	303	2 320
Schulübungsbücher gekauft/durch Schenkung	667	0	0	41 200	0	69 106	0	150	0	111 123
Schultextbücher gekauft/durch Schenkung	0	0	45 650	9 600	1 182	8 769	7 285	150	58 387	131 023
Uniformen gekauft/angefertigt/durch Schenkung	8 897	0	5 761	0	2 000	6 040	0	0	434	23 132
Kindern mit Schulgeld/Stipendien geholfen	12 321	0	1 598	0	154	0	0	0	2 014	16 087
Schultische gebaut/gekauft/durch Schenkung	3 200	0	3 689	250	1 564	1 725	1 794	0	4 109	16 331
Dauerhafte Klassenräume gebaut	44	0	50	8	93	31	45	0	82	353
Klassenräume renoviert	0	0	34	0	0	14	0	0	33	81
Erwachsene, die Schreib-/Leseunterricht in diesem Geschäftsjahr erhielten	1 160	0	3 000	568	3 617	0	0	0	350	8 695



Habitat

Latrinen oder Toiletten ausgehoben/gebaut	50	0	2 403	0	57	162	23	96	4 311	7 102
Häuser an ein neues Abwassersystem angeschlossen	143	0	0	0	0	0	0	0	0	143
Brunnen gegraben/saniert (oder Quellen gefasst)	0	0	15	0	7	13	0	0	159	194
Neue positive Wasserbohrungen durchgeführt	0	0	8	93	14	0	27	0	220	362
Zisternensysteme für Trinkwasserversorgung gebaut	0	0	28	0	1	0	0	0	0	29
Trinkwassersysteme repariert/verbessert	0	0	392	0	2	0	0	0	31	425
Häuser mit PLAN-Projekt verbessert	265	0	520	0	0	0	1	0	2	788
Neue Häuser für Bewohner gebaut	225	0	596	0	0	2	6	0	313	1 142
Gemeindehallen gebaut oder ausgebessert	2	0	2	0	3	0	3	0	2	12
Gemeindevertreter 1 oder mehr Tage geschult	2 214	95	3 522	232	200	3 575	814	20	2 693	13 365
Kilometer von Straßen verbessert	1,2	0	26	0	0	0	0	0	53,4	80,6
Brücken gebaut	0	0	4	2	11	0	0	0	1	18
Familien, die direkt vom Erosionsschutz profitieren	0	0	1 092	0	1 500	0	0	0	18 405	20 997
Häuser neu an das Elektrifizierungsprojekt angeschlossen	448	0	2	0	0	0	0	0	44	494

Die Tabelle auf der gegenüberliegenden Seite ist Teil eines Berichts, der von PLAN International, einer internationalen Hilfsorganisation, veröffentlicht wurde. Sie enthält Informationen über die Arbeit von PLAN in einer der Regionen (östliches und südliches Afrika), in denen die Organisation tätig ist. Beziehe dich auf die Tabelle, um die nachfolgenden Fragen zu beantworten.

Frage 21: PLAN INTERNATIONAL

Was gibt die Tabelle über den Umfang der Aktivitäten von PLAN International in Äthiopien im Jahre 1996 verglichen mit anderen Ländern in der Region an?

- A Der Umfang der Aktivitäten war in Äthiopien vergleichsweise groß.
- B Der Umfang der Aktivitäten war in Äthiopien vergleichsweise gering.
- C Er war ungefähr genauso groß wie in anderen Ländern der Region.
- D Er war in der Kategorie Habitat vergleichsweise groß und in den anderen Kategorien gering.

Frage 22: PLAN INTERNATIONAL

1996 war Äthiopien eines der ärmsten Länder der Welt.

Wenn du diese Tatsache und die Informationen in der Tabelle bedenkst, wodurch lässt sich deiner Meinung nach der Umfang der Aktivitäten von PLAN International in Äthiopien, verglichen mit den Aktivitäten in anderen Ländern, erklären?

.....

.....

.....

UNIT „POLIZEI“

Wissenschaftliche Waffen der Polizei

Ein Mord wurde begangen, aber der Verdächtige streitet alles ab. Er behauptet, das Opfer nicht zu kennen. Er sagt, er habe ihn nie gekannt, sei nie in seiner Nähe gewesen, hätte ihn nie angerührt ... Polizei und Justiz sind überzeugt, dass er nicht die Wahrheit sagt. Aber wie ist es zu beweisen?

Am Tatort haben die Ermittlungsbeamten jede noch so kleine denkbare Spur und mögliche Beweisstücke zusammengetragen: Gewebefasern, Haare, Fingerabdrücke, Zigarettenstummel ... Die wenigen auf dem Jackett des Opfers gefundenen Haare sind rot. Und sie sehen denen des Verdächtigen merkwürdig ähnlich. Wenn es bewiesen werden könnte, dass diese Haare tatsächlich von ihm stammen, wäre das ein Beweis, dass er dem Opfer doch begegnet war.

Jedes Individuum ist einzigartig

Die Spezialisten gehen an die Arbeit. Sie untersuchen einige Zellen an der Haarwurzel und ein paar Blutzellen des Verdächtigen. Im Kern jeder Zelle unseres Körpers befindet sich DNS. Was ist das? Die DNS ist wie eine Kette aus zwei umeinander gedrehten Perlenreihen. Stelle dir vor, dass

diese Perlen in vier verschiedenen Farben vorkommen und tausende von Perlen (aus denen ein Gen besteht) in einer ganz bestimmten Reihenfolge aufgezogen sind. Bei jedem einzelnen Individuum ist diese Reihenfolge in allen Zellen des Körpers gleich: die von den Haarwurzeln genauso wie die vom großen Zeh, von der Leber sowie des Magens oder des Blutes. Aber die Reihenfolge der Perlen ist bei jedem Menschen anders. Die Wahrscheinlichkeit, dass zwei Menschen die gleiche DNS haben, ist angesichts der Anzahl derart aufzogener Perlen sehr gering, mit Ausnahme von eineiigen Zwillingen. Einzigartig für jedes Individuum, ist die DNS damit eine Art genetischer Personalausweis.

Die Genetiker können deshalb den (in seinem Blut festgelegten) genetischen Personalausweis des Verdächtigen mit dem der rothaarigen Person vergleichen.

Wenn der genetische Personalausweis derselbe ist, wissen sie, dass der Verdächtige doch in der Nähe des Opfers war, dem er angeblich nie begegnet ist.

Nur ein Beweisstück

Immer häufiger lässt die Polizei bei sexuellen Vergehen, Mord, Diebstahl oder anderen Verbrechen genetische Analysen durchführen. Warum? Um zu versuchen, Beweise dafür zu finden, dass zwei Menschen, zwei Gegenstände oder ein Mensch und ein Gegenstand miteinander in Berührung gekommen sind. Der Nachweis eines solchen Kontakts ist für die Ermittlungen oft sehr nützlich. Er liefert aber nicht unbedingt den Beweis für ein Verbrechen. Er ist nur ein Beweisstück unter vielen anderen.

Anne Versailles

Wir bestehen aus Milliarden von Zellen

Jedes Lebewesen besteht aus sehr vielen Zellen. Eine Zelle ist unendlich klein. Man kann sogar sagen „mikroskopisch klein“, da man sie nur mit Hilfe eines Mikroskops sehen kann, das sie um ein Vielfaches vergrößert. Jede Zelle hat eine äußere Hülle und einen Kern, in dem sich die DNS befindet.


Genetischer WAS?

Die DNS besteht aus mehreren Genen, von denen jedes aus Tausenden von „Perlen“ gebildet wird. Zusammen bilden diese Gene den genetischen Personalausweis eines Menschen.

Wie findet man den genetischen Personalausweis?

Der Genetiker nimmt die wenigen Zellen von den Wurzeln der Haare, die bei dem Opfer gefunden wurden, oder aus dem Speichel, der an einem Zigarettenstummel haftet. Er taucht sie in eine Substanz, die alles zerstört, was sich um die DNS dieser Zellen herum befindet. Dasselbe macht er dann mit einigen Zellen aus dem Blut des Verdächtigen. Die DNS wird dann speziell für die Analyse vorbereitet. Danach kommt sie in ein spezielles Gel, und durch das Gel wird elektrischer Strom geleitet. Nach ein paar Stunden entstehen dadurch Streifen, ähnlich wie bei einem Strichcode (wie auf Waren, die wir kaufen), die unter einer speziellen Lampe sichtbar werden. Den Strichcode der DNS des Verdächtigen vergleicht man dann mit dem der Haare, die bei dem Opfer gefunden wurden.

Mikroskop in einem Polizeilabor



Beziehe dich auf den Zeitschriftenartikel auf der gegenüberliegenden Seite, um die unten stehenden Fragen zu beantworten.

Frage 23: POLIZEI

Um die Struktur der DNS zu erklären, spricht der Autor von einer Perlenkette. Wodurch unterscheiden sich diese Perlenketten bei verschiedenen Menschen?

- A Sie sind von unterschiedlicher Länge.
 - B Die Reihenfolge der Perlen ist unterschiedlich.
 - C Die Anzahl der Ketten ist unterschiedlich.
 - D Die Farbe der Perlen ist unterschiedlich.
-

Frage 24: POLIZEI

Welchen Zweck hat der Kasten mit der Überschrift: „Wie findet man den genetischen Personalausweis?“

Er soll erklären,

- A was die DNS ist.
 - B was ein Strichcode ist.
 - C wie Zellen analysiert werden, um das Muster der DNS zu finden.
 - D wie bewiesen werden kann, dass ein Verbrechen begangen worden ist.
-

Frage 25: POLIZEI

Was ist das Hauptziel des Autors?

- A Zu warnen.
 - B Zu unterhalten.
 - C Zu informieren.
 - D Zu überzeugen.
-

Frage 26: POLIZEI

Am Schluss der Einführung (erster grau unterlegter Kasten) heißt es: „Aber wie ist es zu beweisen?“

Im Text steht, dass die Ermittlungsbeamten eine Antwort auf diese Frage zu finden suchen, indem sie

- A Zeugen befragen.
- B Gentests durchführen.
- C den Verdächtigen gründlich verhören.
- D sämtliche Ermittlungsergebnisse noch einmal durchgehen.

UNIT „TURNSCHUHE“

FÜHL DICH WOHL IN DEINEN TURNSCHUHEN



14 Jahre lang wurden am Sportmedizinischen Zentrum Lyon (Frankreich) die Verletzungen junger Amateur- und Profisportler untersucht. Die Studie beweist, dass Vorbeugung ... und gute Schuhe ... der beste Schutz sind.

Stöße, Stürze und Verschleiß ...

Achtzehn Prozent der Spieler im Alter von 8 bis 12 haben bereits Verletzungen an den Fersen. Der Knorpel im Knöchel eines Fußballers steckt Erschütterungen schlecht weg. 25 % der Profis haben am eigenen Leibe herausgefunden, dass dies ein besonderer Schwachpunkt ist. Der Knorpel des empfindlichen Kniegelenks kann ebenfalls irreparabel geschädigt werden, und wenn man nicht bereits von Kindheit an aufpasst (im Alter von 10-12 Jahren), kann dies zu frühzeitiger Arthrose führen. Auch die Hüfte bleibt von Schaden nicht verschont, und ein Spieler, besonders wenn er müde ist, läuft Gefahr, sich bei einem Sturz oder Zusammenstoß Knochenbrüche zuzuziehen.

Die Untersuchung besagt, dass sich bei Fußballern, die seit mehr als zehn Jahren spielen,

Knochenauswüchse am Schienbein oder an der Ferse entwickeln. Dies ist der sogenannte „Fußballerfuß“, eine Deformierung, die durch Schuhe mit zu flexiblen Sohlen und Knöchelbereichen entsteht.

Schützen, stützen, stabilisieren, dämpfen

Wenn ein Schuh zu steif ist, schränkt er die Bewegung ein. Wenn er zu flexibel ist, vergrößert sich das Verletzungs- und Verstauchungsrisiko. Ein guter Sportschuh sollte vier Kriterien erfüllen:

Erstens muss er *äußeren Schutz bieten*: gegen Stöße durch den Ball oder einen anderen Spieler schützen, Bodenunebenheiten ausgleichen und den Fuß warm und trocken halten, selbst wenn es eiskalt ist und regnet.

Er muss *den Fuß und besonders das Knöchelgelenk stützen*, um Verstauchungen,

Schwellungen und andere Probleme zu vermeiden, die sogar das Knie betreffen können.

Er muss dem Spieler auch eine gute *Stabilität* bieten, so dass er auf nassem Boden oder einem zu trockenen Belag nicht rutscht.

Schließlich muss er *Stöße dämpfen*, besonders bei Volleyball- und Basketballspielern, die permanent springen.

Trockene Füße

Um kleinere, aber schmerzhaft beschwerden, wie z.B. Blasen und sogar Risswunden oder Pilzinfektionen zu verhindern, muss der Schuh das Verdunsten von Schweiß ermöglichen und äußere Feuchtigkeit am Eindringen hindern. Das ideale Material hierfür ist Leder, das imprägniert werden kann, um zu verhindern, dass der Schuh beim ersten Regen durchnässt wird.

Benutze den Artikel auf der gegenüberliegenden Seite, um die folgenden Fragen zu beantworten.

Frage 27: TURNSCHUHE

Was will der Verfasser mit diesem Text zeigen?

- A Die Qualität vieler Sportschuhe ist sehr viel besser geworden.
- B Man soll am besten nicht Fußball spielen, wenn man unter zwölf Jahre alt ist.
- C Junge Menschen erleiden wegen ihrer schlechten körperlichen Verfassung immer mehr Verletzungen.
- D Für junge Sportler ist es sehr wichtig, gute Sportschuhe zu tragen.

Frage 28: TURNSCHUHE

Warum sollten laut Artikel Sportschuhe nicht zu steif sein?

.....

Frage 29: TURNSCHUHE

An einer Stelle in dem Artikel heißt es: „Ein guter Sportschuh sollte vier Kriterien erfüllen.“

Welche Kriterien sind dies?

.....
.....
.....
.....

Frage 30: TURNSCHUHE

Sieh dir diesen Satz an, der fast am Ende des Artikels steht. Er wird hier in zwei Teilen wiedergegeben:

„Um kleinere, aber schmerzhaft Beschwerden, wie z.B. Blasen und sogar Risswunden oder Pilzinfektionen zu verhindern ...“ *(erster Teil)*

„... muss der Schuh das Verdunsten von Schweiß ermöglichen und äußere Feuchtigkeit am Eindringen hindern.“ *(zweiter Teil)*

Welche Beziehung besteht zwischen dem ersten und zweiten Teil des Satzes?

Der zweite Teil

- A widerspricht dem ersten Teil.
- B wiederholt den ersten Teil.
- C veranschaulicht das Problem, das im ersten Teil beschrieben wird.
- D bietet die Lösung für das Problem, das im ersten Teil beschrieben wird.

UNIT „GESCHENK“

DAS GESCHENK

Wie viele Tage, fragte sie sich, hatte sie wohl so dagesessen und dem kalten braunen Wasser zugesehen, das das Ufer Zentimeter um Zentimeter verschlang. Sie konnte sich nur schwach an den Beginn des Regens erinnern, der durch den Sumpf vom Süden her kam und gegen die Außenschale ihres Hauses peitschte. Dann
5 begann der Fluss selbst langsam zu steigen, stoppte endlich, nur um noch stärker anzusteigen. Stunde um Stunde füllte er Buchten und Gräben und ergoss sich in tiefer gelegene Stellen. In der Nacht, während sie schlief, bemächtigte er sich der Straße und umzingelte sie, so dass sie allein dasaß: Ihr Boot war verschwunden, das Haus lag wie ein Stück Treibholz auf dem Steilufer. Jetzt leckten die Wassermassen bereits an den geteerten Planken der Stützpfeiler. Und noch immer stiegen sie.
10

So weit sie blicken konnte, bis zu den Baumkronen, wo das andere Ufer gewesen war, war der Sumpf nur noch eine leere, regenverschleierte See, in deren Weite sich der Fluss irgendwo verlor. Ihr Haus war mit seinem schiffsähnlichen Unterbau eigens gebaut worden, um einer solchen Flut standzuhalten, falls je eine käme, doch jetzt
15 war es alt. Vielleicht waren die unteren Planken teilweise vermodert. Möglicherweise würde das Tau, mit dem das Haus an der großen immergrünen Eiche festgemacht war, reißen und sie stromabwärts schießen lassen, wohin bereits ihr Boot verschwunden war.

Niemand konnte jetzt noch kommen. Sie könnte schreien, aber es wäre sinnlos, niemand würde sie hören. In der Weite des Sumpfes kämpften andere um das
20 wenige, was zu retten war, vielleicht sogar um ihr Leben. Sie hatte ein ganzes Haus vorbeitreiben sehen, so still, dass sie an eine Begräbnisfeier erinnert wurde. Als sie es sah, glaubte sie zu wissen, wessen Haus es war. Es war schmerzlich, es treiben zu sehen, doch seine Besitzer hatten sich wohl an einen höher gelegenen Ort gerettet. Später, als der Regen und die Dunkelheit stärker wurden, hatte sie
25 flussaufwärts einen Panter brüllen gehört.

Plötzlich schien das Haus um sie herum wie ein lebendiges Wesen zu erzittern. Sie griff nach einer Lampe, um sie aufzufangen, als sie von dem Tisch neben ihrem Bett glitt, und stellte sie zwischen ihre Füße, um sie aufrecht zu halten. Dann,
30 knarrend und ächzend vor Anstrengung, kämpfte sich das Haus vom Lehm frei, bewegte sich schwimmend, tanzte wie ein Korken auf und ab und wurde langsam von der Strömung des Flusses erfasst. Sie klammerte sich an die Bettkante. Hin und her schwankend bewegte sich das Haus bis zur vollen Länge seiner Vertäuung. Es gab einen Ruck, dann einen Klage laut des alten Holzes und schließlich ein
35 Innehalten. Langsam gab die Strömung es frei und ließ es zurückschaukeln und über seinen alten Ruheplatz schleifen. Sie hielt den Atem an und saß lange Zeit still und fühlte die langsamen, pendelartigen Schwingungen. Die Dunkelheit durchdrang den unaufhörlichen Regen, und mit dem Kopf auf dem Arm und sich an der Bettkante festhaltend, schlief sie ein.

Irgendwann in der Nacht weckte sie der Schrei, ein Laut so qualvoll, dass sie auf den Beinen war, noch bevor sie wach war. In der Dunkelheit stolperte sie gegen das Bett. Er kam von dort draußen, vom Fluss. Sie konnte hören, wie sich etwas bewegte, etwas Großes, das ein kratzendes, streichendes Geräusch machte.
40 Vielleicht war es ein anderes Haus. Dann stieß es an, nicht frontal, sondern längsseits streifend und gleitend. Es war ein Baum. Sie lauschte, wie die Äste und Blätter freikamen und weiter stromabwärts trieben, so dass nur noch der Regen und das Schwappen der Flut zurückblieben, ein so beständiges Geräusch, dass es Teil der Stille zu sein schien. Zusammengekauert auf dem Bett war sie fast wieder eingeschlafen, als ein weiterer Schrei ertönte, diesmal so nah, dass es im Zimmer hätte sein können. Sie starrte in die Dunkelheit und bewegte sich vorsichtig auf ihrem
50 Bett nach hinten, bis ihre Hand die kalte Form des Gewehres ergriff. Sie kauerte auf

dem Kissen und hielt das Gewehr auf ihren Knien. „Wer ist da?“ rief sie.

Die Antwort war ein neuerlicher Schrei, doch dieses Mal weniger gellend, eher müde klingend, dann brach wieder leere Stille herein. Sie wich auf dem Bett weiter zurück. Was immer dort war, sie konnte hören, wie es sich auf der Veranda bewegte. Planken knarrten, und sie konnte Geräusche von umfallenden Gegenständen ausmachen. Da war ein Kratzen an der Wand, als ob es sich hereinscharren wollte. Jetzt wusste sie, was es war, eine große Katze, die der entwurzelte Baum, der vorbeigetrieben war, hier abgesetzt hatte. Sie war mit der Flut gekommen – ein Geschenk.

Unbewusst presste sie ihre Hand an das Gesicht und an ihren zugeschnürten Hals. Das Gewehr schaukelte auf ihren Knien. Sie hatte noch nie in ihrem Leben einen Panter gesehen. Man hatte ihr von Pantern erzählt, und sie hatte ihre klagenden Schreie in der Ferne gehört. Die Katze kratzte wieder an der Wand und rüttelte am Fenster neben der Tür. Solange sie das Fenster bewachte und die Katze zwischen Wand und Wasser eingeschlossen war, wie in einem Käfig, brauchte sie sich keine Sorgen zu machen. Draußen verharrte das Tier, um dann mit seinen Krallen über das verrostete Fliegengitter zu kratzen. Ab und zu wimmerte und knurrte es.

Als endlich das Licht durchdrang, gefiltert durch den Regen wie eine andere Art Dunkelheit, saß sie noch immer steif und durchfroren auf dem Bett. Ihre Arme, die an das Rudern auf dem Fluss gewöhnt waren, schmerzten vom bewegungslosen Festhalten des Gewehres. Aus Angst, irgendein Laut könnte der Katze Kraft verleihen, hatte sie sich kaum zu rühren gewagt. Starr dasitzend, schwankte sie mit den Bewegungen des Hauses. Es regnete noch immer, als wollte es nie aufhören. Durch das graue Licht konnte sie schließlich die von Regentropfen gezeichnete Flut und in weiter Ferne die nebelhafte Form überfluteter Baumkronen erkennen. Die Katze bewegte sich jetzt nicht. Vielleicht war sie gar nicht mehr da. Sie legte das Gewehr beiseite, glitt vom Bett und bewegte sich lautlos zum Fenster. Die Katze war noch immer dort, lag zusammengekauert am Rand der Veranda und starrte zur Eiche hinauf, an der das Haus vertäut war, als ob sie ihre Chancen abwägen wollte, auf einen herabhängenden Ast zu springen. Sie wirkte nun nicht mehr so angsteinflößend, da sie zu erkennen war mit ihrem rauhen, stachelig verklebten Fell, ihren eingefallenen Flanken und den hervortretenden Rippen. Sie wäre leicht zu erschießen, wie sie dort saß mit ihrem langen Schwanz, der hin und her wedelte. Die Frau wollte gerade zurückgehen, um das Gewehr zu holen, als die Katze sich umwandte. Ohne Warnung, ohne sich zu ducken oder die Muskeln anzuspannen, sprang sie gegen das Fenster und zerschmetterte eine Scheibe. Die Frau schreckte zurück, unterdrückte einen Schrei, nahm das Gewehr auf und feuerte durch das Fenster. Sie konnte den Panter jetzt nicht sehen, aber sie hatte ihn verfehlt. Er begann wieder umherzulaufen. Sie konnte seinen Kopf und die Rundung seines Rückens erkennen, wenn er am Fenster vorbeikam.

Zitternd zog sie sich auf das Bett zurück und legte sich hin. Das stetige einschläfernde Geräusch des Flusses und des Regens, die durchdringende Kälte ließen ihre Entschlossenheit schwinden. Sie beobachtete das Fenster und hielt das Gewehr bereit. Nach langem Warten bewegte sie sich wieder, um nachzusehen. Der Panter war eingeschlafen, mit dem Kopf auf den Tatzen, wie eine Hauskatze. Zum ersten Mal seit der Regen begonnen hatte, wollte sie weinen, um sich selbst, um all die Menschen, um alles, was in der Flut versunken war. Sie ließ sich auf das Bett gleiten und zog die Decke um ihre Schultern. Sie hätte weggehen sollen, als sie noch konnte, als die Straßen noch offen waren oder bevor ihr Boot fortgeschwemmt wurde. Während sie sich so mit dem Schaukeln des Hauses hin und her wiegte, erinnerte sie ein stechender Schmerz in ihrem Magen daran, dass sie nichts gegessen hatte. Sie wusste nicht, wie lange schon. Sie war genauso ausgehungert

105 wie die Katze. Sie bewegte sich vorsichtig in die Küche und machte mit den übrig
gebliebenen Holzscheiten Feuer. Wenn die Flut anhielt, würde sie den Stuhl und
vielleicht sogar den Tisch verbrennen müssen. Sie nahm den Rest eines
geräucherten Schinkens von der Decke, schnitt dicke Scheiben von dem rötlich-
110 braunen Fleisch ab und legte sie in eine Bratpfanne. Der Geruch des gebratenen
Fleisches machte sie benommen. Es waren noch trockene Brötchen da vom letzten
Mal, als sie gekocht hatte, und sie konnte sich Kaffee machen. Wasser gab es ja
reichlich.

Während sie ihr Essen zubereitete, vergaß sie die Katze beinahe, bis diese
wimmerte. Sie war ebenfalls hungrig. „Lass mich essen,“ rief die Frau, „und dann
115 kümmere ich mich um *dich*“. Und sie lachte leise. Als sie den Rest des Schinkens
wieder an den Nagel hängte, gab die Katze ein tiefes, kehliges Knurren von sich, das
ihre Hand erzittern ließ.

Nachdem sie gegessen hatte, ging sie wieder zum Bett und nahm das Gewehr in
die Hand. Das Haus war mittlerweile so hoch gestiegen, dass es nicht mehr über das
120 Steilufer schrammte, wenn es vom Fluss weg trieb. Vom Essen war ihr warm
geworden. Sie konnte die Katze loswerden, solange noch etwas Licht durch den
Regen kam. Sie kroch langsam zum Fenster. Die Katze war noch dort, miaute und
begann, auf der Veranda umherzulaufen. Die Frau starrte sie lange Zeit furchtlos an.
Dann, ohne zu überlegen, was sie da tat, legte sie das Gewehr beiseite und ging um
125 die Bettkante herum zur Küche. Hinter ihr bewegte sich die Katze gereizt auf und ab.
Sie nahm den restlichen Schinken herunter, bewegte sich über den schwankenden
Boden zurück zum Fenster und schob das Fleisch durch die zerbrochene Scheibe.
Auf der anderen Seite ertönte ein hungriges Knurren, und eine Art Schockwelle
übertrug sich von dem Tier auf sie. Verblüfft über ihr Tun, zog sie sich zum Bett
130 zurück. Sie konnte hören, wie der Panter das Fleisch zerriss. Das Haus schaukelte
um sie herum.

Als sie das nächste Mal erwachte, wusste sie sofort, dass alles anders war. Der
Regen hatte aufgehört. Sie versuchte, die Bewegung des Hauses zu spüren, aber es
schwankte nicht mehr auf der Flut. Als sie die Tür aufzog, sah sie durch das zerfetzte
135 Fliegengitter eine veränderte Welt. Das Haus ruhte auf dem Steilufer, auf dem es
immer gestanden hatte. Unter ihr toste der Fluss noch immer als reißender Strom,
aber er bedeckte nicht mehr die wenigen Meter zwischen dem Haus und der Eiche.
Die Katze war verschwunden. Von der Veranda zu der Eiche und zweifellos in den
Sumpf hinein führten Spuren, undeutlich und bereits im weichen Schlamm
140 verschwindend. Und dort auf der Veranda lag, weißgenagt, was von dem Schinken
übrig war.

Beziehe dich auf die Erzählung „Das Geschenk“ auf den vorigen drei Seiten, um die folgenden Fragen zu beantworten. (Beachte dabei, dass am Rand des Textes Zeilennummern angegeben sind, die dir helfen sollen, die Textstellen zu finden, auf die sich die Fragen beziehen.)

Frage 31: GESCHENK

Hier folgt ein Ausschnitt aus einem Gespräch zwischen zwei Personen, die „Das Geschenk“ gelesen haben:



Stütze dich auf Informationen aus der Erzählung, um zu zeigen wie beide Personen ihren Standpunkt rechtfertigen können.

Person 1

.....

Person 2

.....

Frage 32: GESCHENK

In welcher Situation befindet sich die Frau zu Beginn der Erzählung?

- A Sie ist zu schwach, um das Haus zu verlassen, nachdem sie tagelang nichts gegessen hat.
- B Sie verteidigt sich gegen ein wildes Tier.
- C Ihr Haus ist von Hochwasser umgeben.
- D Ein über die Ufer getretener Fluss hat ihr Haus fortgeschwemmt.

Frage 33: GESCHENK

Hier einige frühe Hinweise auf den Panter in der Erzählung:

„weckte sie der Schrei, ein Laut so qualvoll ...“ (Zeile 40)

„Die Antwort war ein neuerlicher Schrei, doch dieses Mal weniger gellend, eher müde klingend, ...“ (Zeilen 53-54)

„... sie hatte ihre klagenden Schreie in der Ferne gehört.“ (Zeilen 63-64)

Wenn du bedenkst, wie die Geschichte weitergeht, weshalb hat deiner Meinung nach der Autor diese Beschreibungen zur Einführung des Panter gewählt?

.....

.....

.....

.....

Frage 34: GESCHENK

„Dann, knarrend und ächzend vor Anstrengung, kämpfte sich das Haus vom Lehm frei ...“ (Zeilen 29-30)

Was geschah mit dem Haus in diesem Teil der Erzählung?

- A Es fiel auseinander.
- B Es begann zu schwimmen.
- C Es stieß mit der Eiche zusammen.
- D Es sank auf den Grund des Flusses.

Frage 35: GESCHENK

Was war wohl laut Erzählung der Grund dafür, dass die Frau den Panter gefüttert hat?

.....

.....

.....

.....

Frage 36: GESCHENK

Wenn die Frau sagt, „dann kümmere ich mich um *dich*“ (Zeilen 114-115) meint sie, dass sie:

- A sicher ist, dass die Katze sie nicht angreift.
- B versucht, die Katze zu erschrecken.
- C vorhat, die Katze zu erschießen.
- D die Katze füttern will.

Frage 37: GESCHENK

Findest du, dass der letzte Satz der Erzählung „Das Geschenk“ ein passendes Ende ist?

Erkläre deine Antwort und mache dabei deutlich, wie nach deinem Verständnis der letzte Satz mit dem Sinn der Geschichte zusammenhängt.

.....

.....

.....

.....

UNIT „AMANDA UND DIE HERZOGIN“

TEXT 1

AMANDA UND DIE HERZOGIN

Zusammenfassung: Seit Léocadias Tod ist der Prinz, der in sie verliebt war, untröstlich. In einem Geschäft mit Namen *Réséda Soeurs* ist die Herzogin, die die Tante des Prinzen ist, auf eine junge Verkäuferin namens Amanda gestoßen, die Léocadia verblüffend ähnlich sieht. Die Herzogin will, dass Amanda ihr hilft, den Prinzen von seinen quälenden Erinnerungen zu befreien.

Eine Wegkreuzung im Schlosspark, eine runde Bank um einen kleinen Obelisken herum ... es wird Nacht ...

AMANDA

Ich verstehe noch immer nicht. Was könnte ich für ihn tun, Madame? Ich kann nicht glauben, dass Sie wirklich dachten ... Und warum ich? Ich bin nicht besonders hübsch. Und selbst wenn jemand sehr hübsch wäre – wer könnte sich so einfach unvermittelt zwischen ihn und seine Erinnerungen drängen?

DIE HERZOGIN

Niemand anders als du.

AMANDA, *ehrlich überrascht*

Ich?

DIE HERZOGIN

Die Welt ist so töricht, mein Kind. Sie sieht nur Paraden, Gesten, Rangabzeichen ... wahrscheinlich hat man es dir deshalb nie gesagt. Doch mein Herz hat mich nicht getäuscht – ich musste einen Aufschrei unterdrücken, als ich dich in Réséda Soeurs zum ersten Mal sah. Für jemanden, der mehr von ihr kannte als nur ihre öffentliche Erscheinung, bist du Léocadias lebendes Abbild.

Stille. Die Abendvögel lösen nun die vom Nachmittag in ihrem Gesang ab. Der Park ist angefüllt von Schatten und Gezwitscher.

AMANDA, *sehr sanft*

Ich glaube wirklich nicht, dass ich es kann, Madame. Ich habe nichts, ich bin nichts, und jene Liebenden ... das war **mein** Traum, verstehen Sie?

Sie steht auf. Sie nimmt ihren kleinen Koffer, als wolle sie gehen.

DIE HERZOGIN, *auch sanft und sehr müde*

Natürlich, meine Liebe. Ich bitte um Verzeihung.

Sie steht nun auch auf, mühsam wie eine alte Frau. Man hört eine Fahrradklingel in der Abendluft; sie schrickt zusammen.

Hörst du? ... Das ist er! Du sollst dich ihm nur zeigen, an diesen kleinen Obelisken gelehnt, wo er sie zum ersten Mal traf. Lass ihn dich sehen, auch wenn es nur dieses eine Mal ist, lass ihn irgendetwas ausrufen, sich plötzlich interessieren für diese Ähnlichkeit, diese List, die ich ihm morgen gestehen werde und für die er mich hassen wird – alles, nur nicht dieses tote Mädchen, das ihn mir eines schönen Tages fort nehmen wird, da bin ich sicher ... (*sie hält sie am Arm fest*). Du tust das doch für mich? Ich bitte dich inständig, Mädchen. (*Sie sieht sie flehend an und fügt rasch hinzu:*) Und immerhin siehst du ihn so auch. Und ... ich spüre, dass ich schon wieder rot werde, wie ich dies zu dir sage – das Leben ist einfach verrückt! Das ist das dritte Mal in sechzig Jahren und das zweite Mal in zehn Minuten, dass ich rot werde – du siehst ihn, und wenn er je (warum nicht er, denn er sieht gut aus und hat Charme, und er wäre nicht der erste ...?) wenn er je das Glück haben sollte, für sich und für mich, für einen Augenblick dein Traum zu sein ... *Die Klingel ertönt erneut aus dem Schatten, nun aber sehr nahe.*

AMANDA, *flüsternd*

Was soll ich zu ihm sagen?

DIE HERZOGIN, *fasst sie am Arm*

Sage einfach: „Verzeihen Sie, mein Herr, können Sie mir den Weg zum Meer zeigen?“

Sie verbirgt sich im tiefen Schatten der Bäume. Gerade noch rechtzeitig. Eine fahle, nebelhafte Erscheinung. Es ist der Prinz auf seinem Fahrrad. Er fährt sehr nahe an die fahle, nebelhafte Erscheinung Amandas am Obelisken heran. Sie spricht leise.

AMANDA

Verzeihen Sie, mein Herr, ...

Er hält an, steigt vom Fahrrad, nimmt seinen Hut ab und sieht sie an.

DER PRINZ

Ja?

AMANDA

Können Sie mir den Weg zum Meer zeigen?

DER PRINZ

Die zweite Straße links.

Er verbeugt sich, traurig und höflich, steigt wieder auf sein Fahrrad und fährt davon. Die Klingel ertönt erneut in der Ferne. Die Herzogin tritt aus dem Schatten, sie wirkt nun sehr alt.

AMANDA, sanft, nach einer Weile

Er hat mich nicht erkannt ...

DIE HERZOGIN

Es war dunkel ... Und wer weiß schließlich, welches Gesicht er ihr nun geben mag, in seinen Träumen? *(Sie fragt schüchtern:)* Der letzte Zug ist fort, mein Kind. Möchtest du nicht trotz allem heute nacht im Schloss bleiben?

AMANDA, mit seltsamer Stimme

Ja, Madame.

Es ist vollkommen dunkel. Beide sind im Schatten nicht mehr zu sehen, und nur der Wind ist zu hören, wie er durch die hohen Bäume des Parks weht.

VORHANG

TEXT 2

DEFINITIONEN VON VERSCHIEDENEN THEATERBERUFEN

Schauspieler: Verkörpert eine Figur auf der Bühne.

Regisseur: Steuert und überwacht alle Aspekte des Stücks. Er bestimmt nicht nur die Positionen der Schauspieler, arrangiert ihre Auftritte und Abgänge und führt Regie bei ihrem Spiel, sondern gibt auch an, wie das Stück zu interpretieren ist.

Kostümschneider und -bildner: Stellen die Kostüme nach Modell her.

Bühnenbildner: Entwirft Modelle für Bühnenbild und Kostüme. Diese Modelle werden dann in der Werkstatt in der richtigen Größe nachgebaut.

Requisiteur: Verantwortlich für die Besorgung der erforderlichen Requisiten. Das Wort „Requisiten“ wird für alles verwendet, was bewegt werden kann: Lehnstühle, Briefe, Lampen, Blumensträuße usw. Bühnenbilder und Kostüme sind keine Requisiten.

Tontechniker: Verantwortlich für alle für die Inszenierung erforderlichen Toneffekte. Er sitzt bei der Aufführung am Steuerpult.

Beleuchtungsassistent, Beleuchtungstechniker: Verantwortlich für die Beleuchtung. Auch er sitzt während der Aufführung am Steuerpult. Die Beleuchtung ist so komplex, dass ein gut ausgestattetes Theater bis zu zehn Beleuchtungstechniker beschäftigen kann.

Frage 38: AMANDA UND DIE HERZOGIN

Wovon handelt dieser Auszug?

Die Herzogin überlegt sich einen Trick,

- A um den Prinzen dazu zu bringen, sie öfter zu besuchen.
- B um den Prinzen dazu zu bringen, sich endlich zum Heiraten zu entschließen.
- C um Amanda dazu zu bringen, den Prinzen seinen Schmerz vergessen zu lassen.
- D um Amanda dazu zu bringen, mit ihr zusammen im Schloss zu wohnen.

Frage 39: AMANDA UND DIE HERZOGIN

Im Skript des Stückes gibt es außer den Wörtern, die die Schauspieler zu sprechen haben, auch noch Anweisungen, die Schauspieler und Theatertechniker ausführen müssen.

Wie kann man diese Anweisungen im Skript erkennen?

.....

Frage 40: AMANDA UND DIE HERZOGIN

Die folgende Tabelle enthält eine Liste von Theater Technikern, die bei der Aufführung dieses Auszugs aus dem Skript beteiligt sind. Vervollständige die Tabelle, indem du jeweils eine genaue Bühnenanweisung aus TEXT 1 einträgst, welche die Beteiligung des betreffenden Technikers erfordert.

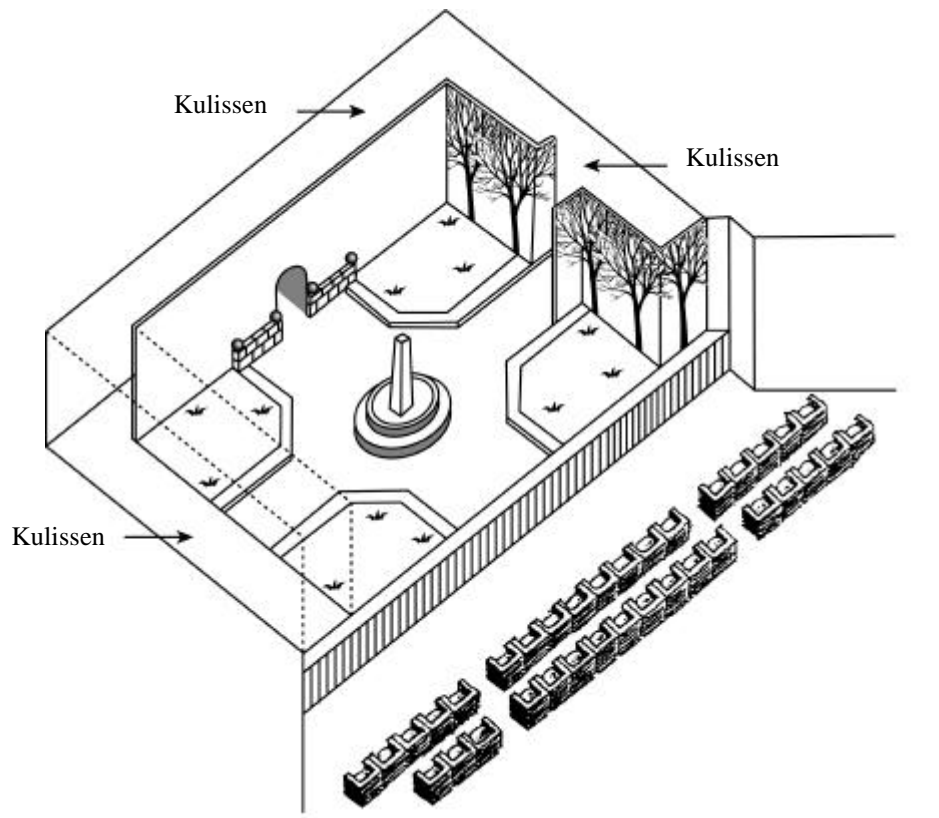
Die erste Antwort wird dir als Beispiel vorgegeben.

Theatertechniker	Bühnenanweisung
Bühnenbildner	Eine runde Bank um einen kleinen Obelisken herum
Requisiteur	
Tontechniker	
Beleuchtungstechniker	

Frage 41: AMANDA UND DIE HERZOGIN

Der Regisseur bestimmt die Positionen der Schauspieler auf der Bühne. In einer Zeichnung stellt der Regisseur Amanda mit dem Buchstaben A und die Herzogin mit dem Buchstaben H dar.

Füge A und H in die folgende Zeichnung ein, um zu zeigen, wo sich Amanda und die Herzogin ungefähr befinden, wenn der Prinz auftritt.



Frage 42: AMANDA UND DIE HERZOGIN

Gegen Ende des Auszugs aus dem Stück sagt Amanda: „Er hat mich nicht erkannt ...“.

Was meint sie damit?

- A Dass der Prinz Amanda nicht angesehen hat.
- B Dass der Prinz nicht bemerkt hat, dass sie eine Verkäuferin ist.
- C Dass der Prinz nicht bemerkt hat, dass er Amanda schon einmal begegnet ist.
- D Dass dem Prinzen nicht aufgefallen ist, dass Amanda wie Léocadia aussieht.

UNIT „PERSONAL“

ZENTRUM FÜR INTERNE UND EXTERNE MOBILITÄT

Was ist ZIEM?

ZIEM ist die Abkürzung für Zentrum für Interne und Externe Mobilität, eine Initiative der Personalabteilung. Einige Angestellte dieser Abteilung arbeiten im ZIEM zusammen mit Mitgliedern anderer Abteilungen und externen Karriereberatern.

ZIEM steht Angestellten bei ihrer Suche nach einer anderen Arbeitsstelle innerhalb oder außerhalb des CANCO Industriebetriebes zur Verfügung.

Was macht ZIEM?

ZIEM unterstützt Angestellte, die ernsthaft an einer anderen Arbeit interessiert sind, durch folgende Tätigkeiten:

- **Stellen-Datenbank**

Nach einem Gespräch mit dem Angestellten werden Informationen in eine Datenbank eingegeben, die Arbeitssuchende und freie Stellen von CANCO und anderen Firmen verwaltet.

- **Beratung**

Die Fähigkeiten des Angestellten werden in Beratungsgesprächen zur beruflichen Laufbahn bestimmt.

- **Kurse**

Es werden Kurse (in Zusammenarbeit mit der Abteilung für Information und Fortbildung) über Arbeitssuche und Karriereplanung organisiert.

- **Projekte für den Berufswechsel**

ZIEM unterstützt und koordiniert Projekte, die Angestellten helfen, sich auf neue Berufswege und neue Perspektiven vorzubereiten.

- **Vermittlung**

ZIEM übernimmt die Rolle eines Vermittlers für Angestellte, die auf Grund von Umstrukturierungen von

Entlassung bedroht sind. ZIEM hilft ihnen, wenn nötig, eine neue Stelle zu finden.

Was kostet ZIEM?

Die Gebühr wird in Rücksprache mit der Abteilung, in der Sie arbeiten, festgelegt. Viele Dienstleistungen von ZIEM sind kostenlos. Man kann auch von Ihnen verlangen, entweder mit Geld oder in Form von Arbeitszeit zu bezahlen.

Wie funktioniert ZIEM?

ZIEM unterstützt Angestellte, die ernsthaft eine andere Arbeit innerhalb oder außerhalb der Firma in Erwägung ziehen.

Dieser Prozess beginnt mit dem Einreichen einer Bewerbung. Auch ein Gespräch mit einem Personalberater kann nützlich sein. Sie sollten auf jeden Fall als Erstes mit dem Personalberater über Ihre Wünsche und die internen Möglichkeiten für Ihre weitere Laufbahn sprechen. Der Personalberater kennt Ihre Fähigkeiten und die Entwicklungen innerhalb Ihrer Abteilung.

Auf jeden Fall wird der Kontakt mit ZIEM über den Personalberater hergestellt. Er bearbeitet Ihre Bewerbungsunterlagen, woraufhin Sie dann zu einem Gespräch mit einem Vertreter des ZIEM eingeladen werden.

Weitere Informationen

Die Personalabteilung kann Ihnen weitere Informationen geben.

Benutze die Bekanntmachung aus einer Personalabteilung auf der gegenüberliegenden Seite, um die unten stehenden Fragen zu beantworten.

Frage 43: PERSONAL

Wo könnte man der Bekanntmachung zufolge mehr Informationen über das ZIEM bekommen?

.....

Frage 44: PERSONAL

Nenne zwei Arten, wie das ZIEM Leuten hilft, die auf Grund der Umstrukturierung einer Abteilung ihre Stelle verlieren werden.

.....

.....

UNIT „TECHNOLOGIE“

Technologie erfordert neue Regeln

DIE WISSENSCHAFT ist oft schon einen Schritt weiter als Gesetzgebung und Ethik. Das begann 1945 mit der lebenszerstörenden Atombombe, und nun passiert das gleiche im Zusammenhang mit den lebensschaffenden Technologien, die menschliche Unfruchtbarkeit überwinden sollen.

Die meisten von uns freuten sich zusammen mit der englischen Familie Brown, als Louise, das erste Retortenbaby, geboren wurde. Und wir haben erst kürzlich die Geburt gesunder Babys bestaunt, die einst eingefrorene Embryonen waren und den günstigsten Zeitpunkt für die Implantation in ihre zukünftige Mutter abwarteten.

In Australien haben zwei solcher Embryonen eine Flut von rechtlichen und ethischen Fragen ausgelöst. Diese Embryonen sollten Ela Rios, der Frau von Mario Rios, eingepflanzt werden. Die Rioses hatten, nachdem der erste Versuch fehlgeschlagen war, um eine zweite Chance gebeten, Eltern zu werden. Bevor der zweite Versuch jedoch durchgeführt werden konnte, kamen die Rioses bei einem Flugzeugabsturz ums Leben.

Wie sollte das australische Krankenhaus mit den eingefrorenen Embryonen verfahren? Könnten sie jemand anderem implantiert werden? Dafür gab es zahlreiche Bewerberinnen. Waren die Embryonen auf irgendeine Art Bestandteil des Nachlasses der Rioses? Oder sollten sie beseitigt werden? Die Rioses hatten verständlicherweise keine Vorsorge für die Zukunft der Embryonen getroffen.

Die Australier beriefen eine Kommission ein, um diese Angelegenheit zu untersuchen. Letzte Woche legte diese Kommission ihren Bericht vor. Sie fordert, dass die Embryonen aufgetaut werden sollen, da ihre Weitergabe an andere die Einwilligung der „Erzeuger“ erfordere. Diese liege jedoch nicht vor. Die Kommission vertritt weiterhin die Ansicht, die Embryonen hätten in

ihrem derzeitigen Zustand weder Leben noch Rechte und könnten folglich beseitigt werden.

Die Kommission ist sich dessen bewusst, dass sie sich auf unsicherem rechtlichen und ethischen Boden bewegt. Aus diesem Grund hat sie eine dreimonatige Frist ausgesetzt, in der die Öffentlichkeit Einspruch gegen ihre Entscheidung einlegen kann. Sollte es starke Proteste gegen die Beseitigung der Embryonen geben, wird die Kommission ihre Entscheidung überdenken.

In Zukunft müssen Paare, die in Sydney im Queen Victoria Krankenhaus am Programm für künstliche Befruchtung teilnehmen, festlegen, wie mit den Embryonen verfahren werden soll, falls ihnen etwas zustößt.

Dies soll sicherstellen, dass ein ähnlicher Fall wie der der Rioses nicht noch einmal auftritt. Aber was ist mit anderen schwierigen Fragen? In Frankreich musste zum Beispiel eine Frau erst kürzlich für die Erlaubnis, ein Kind von dem gefrorenen Sperma ihres verstorbenen Mannes auszutragen, vor Gericht gehen. Wie soll solch ein Ersuchen behandelt werden? Was sollte geschehen, wenn eine Leihmutter ihren Vertrag bricht und sich weigert, das Kind, das sie für jemand anderen ausgetragen hat, nach der Geburt herauszugeben?

Bis heute ist es der Gesellschaft nicht gelungen, wirksame Gesetze gegen das zerstörerische Potential der Atomkraft zu erlassen. Wir stehen nun vor den schwerwiegenden Folgen dieser Unterlassung. Wissenschaftliche Forschung auf dem Gebiet der künstlichen Fortpflanzung unterliegt immer der Gefahr von Missbrauch. Es bedarf hierfür eindeutiger ethischer und gesetzlicher Regelungen – bevor es zu spät ist.

Benutze den Leitartikel „Technologie erfordert neue Regeln“ auf der gegenüberliegenden Seite, um die unten stehenden Fragen zu beantworten.

Frage 45: TECHNOLOGIE

Unterstreiche den Satz, der erklärt, was die Australier taten, um zu entscheiden, wie mit den eingefrorenen Embryonen verfahren werden sollte, die dem bei einem Flugzeugabsturz ums Leben gekommenen Paar gehörten.

Frage 46: TECHNOLOGIE

Gib zwei Beispiele aus dem Leitartikel an, die zeigen, wie moderne Technologien, wie die, die zur Implantation eingefrorener Embryonen angewendet werden, neue Regeln erfordern.

.....